

平成25年国家試験受験対策 測量士補 通信添削問題正誤表

： 1/15 追加

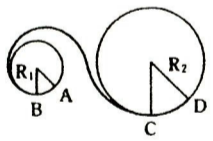
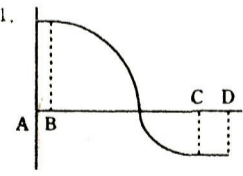
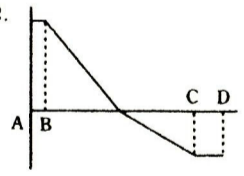
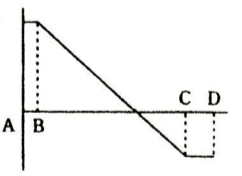
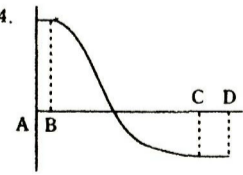
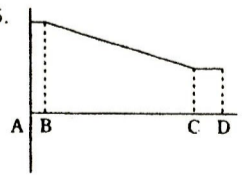
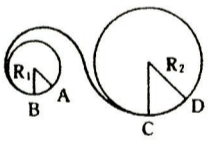
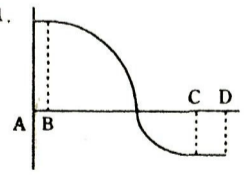
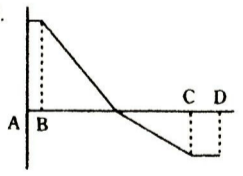
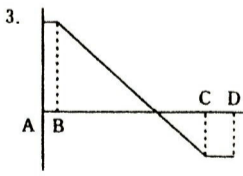
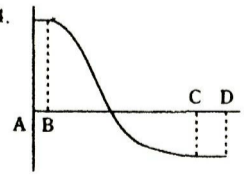
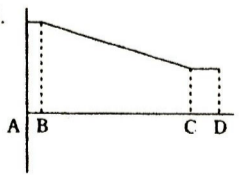
P.44 「写真測量 問題 No.19」 問 A 問題の差し替えについて

当問題の出題内容が適切ではないため、差し替えとします。  
解答用紙には、次の問題の解答をご記入下さい。

※既に提出されている方には、次の問題に対する解説を送付します。

問 A 次の文は、標定及び調整計算に関する説明である。間違っているものはどれか。  
次の中から選べ。

1. アナログ航空カメラによるフィルムから作成した数値写真の内部標定は、4つ以上の指標を基に行う。
2. デジタル航空カメラによる数値写真の内部標定においては、数値写真の四隅を指標に替えて行う。
3. 各写真の内部標定要素の成果値は、コース又はブロックを単位とした調整計算によって決定する。
4. パスポイント及びタイポイントが作業に必要な精度を満たすまで、不良点の再観測及び追加観測を手動で行い再度調整計算を行う。
5. 基準点の異常、測定の誤り等に起因する誤差の点検は、調整計算ソフトの異常値検索機能等を用いて行う。

頁	正	誤
P.11 多角測量 問題 No.5 問 B 上から 2 行目	問 B 図 5-1 のように GNSS 測量により測点 A から・・・ において <b>GNSS</b> 衛星からの電波が受信できなかったために・・・	問 B 図 5-1 のように GNSS 測量により測点 A から・・・ において <b>GPS</b> 衛星からの電波が受信できなかったために・・・
P.15 多角測量 問題 No.7 問 A 上から 1 行目	問 A 次の文は、 <b>TS 等による</b> 基準点測量の測量方式について・・・	問 A 次の文は、基準点測量の測量方式について・・・
P.39 写真測量 問題 No.17 問 A 下から 4 行目	3. <b>オーバーラップ 60%の隣接する実体写真</b> で、2.の鉄塔に対する・・・	3. 隣接する一対の実体写真で、2.の鉄塔に対する・・・
P.51 地図編集 問題 No.21 問 D 下から 6 行目	ものである。明らかに間違っているものはどれか。 <b>次の中</b> から選べ。	ものである。明らかに間違っているものはどれか。 <b>次中</b> から選べ。
P.69 応用測量 問題 No.28 問 B 図の名称	 <p>図28-1</p> <p>1. </p> <p>2. </p> <p>3. </p> <p>4. </p> <p>5. </p>	 <p>図7-1</p> <p>1. </p> <p>2. </p> <p>3. </p> <p>4. </p> <p>5. </p> <p>図28-1</p>

※1 通信添削問題集に関する正誤の最新情報は、こちらでご確認下さい。

▶ <http://www.jsurvey.jp/3-2.htm> (トップページ→講習会・認定試験・サーベイアカデミー→測量士・補 通信添削)

※2 教材図書(受験テキスト・科目別模範解答集)の正誤表は、こちらでご確認下さい。

▶ <http://www.jsurvey.jp/2-1b.htm> (トップページ→出版物・用紙等→国家試験受験参考書)